

CONTENTS 目录

单元分层检测卷(一) [考查范围:从中华文明起源到秦汉统一多民族封建国家的建立与巩固(及相关选必)] 01

单元分层检测卷(二) [考查范围:三国两晋南北朝的民族交融与隋唐统一多民族封建国家的发展(及相关选必)] 03

单元分层检测卷(三) [考查范围:辽宋夏金多民族政权的并立与元朝的统一(及相关选必)] 05

单元分层检测卷(四) [考查范围:明清中国版图的奠定与面临的挑战(及相关选必)] 07

阶段滚动检测卷(一) [考查范围:中国古代史] 09

单元分层检测卷(五) [考查范围:晚清时期的内忧外患与救亡图存(及相关选必)] 11

单元分层检测卷(六) [考查范围:辛亥革命与新民主主义革命兴起(及相关选必)] 13

单元分层检测卷(七) [考查范围:中华民族的抗日战争和人民解放战争(及相关选必)] 15

单元分层检测卷(八) [考查范围:中华人民共和国成立和社会主义革命与建设(及相关选必)] 17

单元分层检测卷(九) [考查范围:改革开放新时期和中国特色社会主义新时代(及相关选必)] 19

阶段滚动检测卷(二) [考查范围:中国近现代史] 21

阶段滚动检测卷(三) [考查范围:中国史] 23

单元分层检测卷(十) [考查范围:古代文明的产生与发展、中古时期的世界(及相关选必)] 25

单元分层检测卷(十一) [考查范围:走向整体的世界和资本主义制度的确立(及相关选必)] 27

单元分层检测卷(十二) [考查范围:工业革命与马克思主义的诞生、世界殖民体系与亚非拉民族独立运动(及相关选必)] 29

阶段滚动检测卷(四) [考查范围:世界古代近代史(及相关选必)] 31

单元分层检测卷(十三) [考查范围:两次世界大战、十月革命与国际秩序的演变(及相关选必)] 33

单元分层检测卷(十四) [考查范围:20世纪下半叶世界的新变化、当代世界发展的特点与主要趋势(及相关选必)] 35

阶段滚动检测卷(五) [考查范围:世界现代史] 37

阶段滚动检测卷(六) [考查范围:世界史] 39

单元分层检测卷(十五) [考查范围:国家制度与社会治理] 41

单元分层检测卷(十六) [考查范围:经济与社会生活] 43

单元分层检测卷(十七) [考查范围:文化交流与传播] 45

阶段滚动检测卷(七) [考查范围:选择性必修全部模块] 47

综合训练检测卷(一) [考查范围:必修+选择性必修] 49

综合训练检测卷(二) [考查范围:必修+选择性必修] 51

· 参考答案 53

全品


教辅图书

功能学具

学生之家

基础教育行业专研品牌

30⁺年创始人专注教育行业



全品
高考复习方案
主编：肖德好

分层滚动卷
历史 YN

单元分层检测卷（一）

[考查范围:从中华文明起源到秦汉统一多民族封建国家的建立与巩固
(及相关选必)]

A 卷 巩固篇

(时间:30 分钟 分值:50 分)

一、选择题(共 36 分)

1. 距今约 8000 年至 7600 年前的磁山文化是仰韶文化的源头之一,也是华夏族的源头之一。考古学家在该地发现了大量的陶纺轮,形制如图所示。这显示磁山文化 ()

- A. 是中华文明的代表性文化
- B. 完全摆脱了对自然的依赖
- C. 陶器的制作水平高超
- D. 是原始手工业的开端



2. [2025·广东广州模拟] 广东英德岩山寨遗址(距今约 5000 年前)发掘出的大型墓较少,但墓中随葬品丰富,有玉琮、玉钺、玉环、玉锥形器以及成组的石镞、石钺等玉石礼器;中型墓稍多,随葬品主要是陶鼎或磨制石器;小型墓居多,随葬品则普遍较少。这主要反映出当时 ()

A. 等级制度较严密 B. 农业、手工业发达

C. 已出现社会分层 D. 存在着阶级对抗

3. [2025·广东广州模拟] 据商代甲骨文记载,当时酒的种类分为鬯与醴,每逢祭祀,用酒量很大,有时一次多至上百卣,而且贵族频繁地举行祭祀。仅在商王武丁时期的妇好墓中就发现 40 尊青铜爵,足见当时社会饮酒之风的盛行。这表明商代 ()

A. 宗教与王权紧密结合 B. 农业生产的较快发展

C. 国家治理能力的提升 D. 贫富差距的持续拉大

4. [2025·山东菏泽模拟] 周王朝分封出去的夏遗族非姬姓诸侯国称作“诸夏”,商遗族非姬姓诸侯国及其内附东夷等方国、部落称作“诸华”。殷商不是夏。从春秋时代起,我国古籍上就开始将“华”与“夏”连用,合称“华夏”族。这说明当时 ()

A. 中原文化领先于周边各族 B. 华夷有别理念初显

C. 形成了统一国家意识 D. 民族认同观念发展

5. 孔子说:“天何言哉?四时行焉,百物生焉,天何言哉?”(天何尝说话呢?四季照常运行,百物照样生长,天说了什么话呀?)老子说:“人法地,地法天,天法道,道法自然。”韩非说:“唯夫与天地之剖判也俱生,至天地之消散也不死不衰者谓常。”(只有那种和天地的开辟一起产生,到天地消散仍然不死不衰的,才能叫作永恒。)从以上儒家、道家、法家言论来推断,三家都 ()

- A. 针对先秦的社会现状提出了共同的政治主张
- B. 认为自然界的存在不以人的意志为转移
- C. 表现出人对自然及其规律的尊崇
- D. 认为自然是可以认识的

6. 下图是汉字“王”由甲骨文演变为隶书的发展过程。导致该字写法变化的主要原因是 ()

甲骨文	金文	金文大篆	小篆	繁体隶书

- A. 大一统局面的形成
- B. 王的政治地位逐步提高
- C. 诸侯征战挑战王权
- D. 频繁使用导致文字趋简

7. [2025·北京大兴区模拟] 湖南龙山县里耶镇里耶古城遗址出土部分秦代竹简,摘录部分内容如下图。这些内容可以用于研究秦代 ()

第一栏:南阳户人荆不更蛮强	注释: 南阳:乡名或里名。户人:即户主。 荆:楚地,表明户人出生之地。不更:秦爵第四级。蛮强:人名
第二栏:妻曰嫪	
第三栏:子小上造□	
第四栏:子小女子驼	
第五栏:臣曰聚伍长	

①监察制度 ②户籍制度 ③赋役制度 ④什伍制度

- A. ①②③
- B. ①②④
- C. ①③④
- D. ②③④

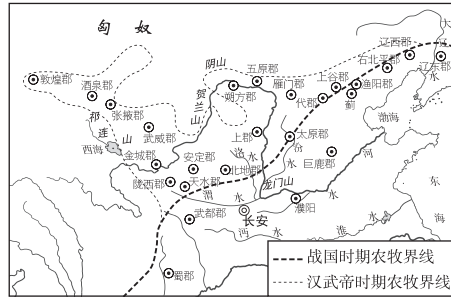
8. 贾谊在《新书·等齐》中描述了汉初官制:“天子之相,号为丞相,黄金之印;诸侯之相,号为丞相,黄金之印,而尊无异等,秩加二千石之上。天子列卿秩二千石,诸侯列卿秩二千石,则臣已同矣……天子卫御,号为大仆,银印,秩二千石;诸侯之御,号曰大仆,银印,秩二千石,则御已齐矣。”据此可知,汉初 ()

- A. 形成了完备的官僚体系
- B. 埋下了王国叛乱的隐患
- C. 继承了秦朝的政治制度
- D. 废除了秦朝的地方制度

9. [2025·山西太原模拟] 汉初,非功臣列侯及其后代不能任相。汉武帝改变传统,任命平民出身的公孙弘为丞相,封平津侯。公孙弘对武帝唯唯诺诺,“不肯面折廷争”。由此可知,当时 ()

- A. 在选官中引入竞争机制
- B. 相权受到中朝的限制
- C. 士族的政治影响力衰退
- D. 专制集权进一步强化

10. [2025·山东日照模拟] 下图为中国古代农牧界线变迁图。导致这一变迁的主导因素是 ()



- A. 政治中心和经济重心转移
- B. 政府重视经略边疆
- C. 汉匈经济文化交流
- D. 少数民族的封建化

11. 下图是四川出土的东汉“酒肆”画像砖。据此图推断,东汉时期 ()



- A. 抑商政策逐渐松弛
- B. 商人社会地位提升
- C. 城市生活丰富多彩
- D. 粮食产量显著提高

12. [2025·湖南岳阳模拟] 有学者谈道,中国在公元后的两个世纪里多次出现遍传南北的大瘟疫,死者无数。在此背景下,终于出现了“实为中国医学史上划时代的作品”。这部作品应该是 ()

- A. 《黄帝内经》
- B. 《伤寒杂病论》
- C. 《九章算术》
- D. 《本草纲目》

二、非选择题(共 14 分)

13. (14 分)[2025·山东潍坊模拟] 南阳出土的汉画像石不仅是精美的石刻艺术品,也是研究汉代时代风貌的宝贵资料。阅读材料,回答问题。

材料

类型	简介
车骑出行图	有的出行图中辆辆马车,高撑华盖,前有导旗,后有护从,威风凛凛,再现了贵族阶层的排场和威仪。另有出行图车辆多是战车,驾车之马昂首奋蹄,向前直奔,驾车之人佩戴武器,面色威严
宴饮图	显示的宴饮场面,一般都实行分餐,一人一案,设宴座序由尊到卑,主宾一律跪坐,身态端正。主宾们厅堂列坐,仆人手捧酒壶站立其后,案上摆满美酒佳肴,宾主边饮美酒边赏舞乐,推杯换盏,觥筹交错
乐舞图	数量众多,人物千姿百态,栩栩如生,真实记录了当时的乐舞风韵。“乐舞百戏”里音乐、舞蹈与杂技、魔术表演相结合的场景,形成了一种综合性的表演艺术

——摘编自王博源《南阳汉代社会风貌在汉画像石中的折射》

(1)南阳汉画像石反映出汉代怎样的时代风貌?(8 分)

(2)若要进一步探究汉代时代风貌,你认为还可以补充什么材料?请举例说明。(6 分)



B 卷 提升篇

(时间:45 分钟 分值:50 分)

一、选择题(共 30 分)

1. 大禹治水的传说是源于古中原地区的神话传统,但同时也多见于西南的汶川、北川、理县和茂县等羌族地区。大禹是尔玛人心中的治水英雄和神圣先祖,甚至羌族地区还流传着“言大禹之神所祐也”的说法。这有利于 ()

- A. 地缘格局调整
- B. 经济协调发展
- C. 中原文化传播
- D. 宗族观念减弱

2. [2025·江西南昌模拟] 何尊是西周早期周成王时的青铜器,内底铸铭文 12 行 122 字,提到周武王灭商后决定建都于天下的中心,“宅兹中国”。这是目前所见“中国”一词最早的实物见证。这里的“中国”是 ()

A. 地理概念 B. 政治概念 C. 文化概念 D. 国家名称

3. 周天子有妻妾大约百人……妻妾众多,为的就是保证有子嗣来做继承人,当然妻妾一多,子嗣就可能会多,所以嫡长子继承制就成了最好的继承办法。对上述文字的理解正确的是 ()

- A. 体现了宗法制的突出特点
- B. 兄弟中最年长的是嫡长子
- C. 各封国的诸侯都不是正统
- D. 西周王室的嫡传者称皇帝

4. 战国时期,齐国国君在临淄稷门设馆招徕慎到、邹衍等知名之士,给予优厚的生活待遇,让他们不任职而议论国事;秦相吕不韦也“招致士,厚遇之,至食客三千人”。这实质上反映了当时 ()

- A. 富国强兵诉求强烈
- B. 礼贤下士风气盛行
- C. 铁犁牛耕技术推广
- D. 官府垄断文化教育

5. [2025·河北邢台模拟] 战国时期,赵国已经形成完备的赏罚制度,据下表可推知该制度 ()

记载	出处
赵惠文王十六年,廉颇为赵将伐齐,大破之,取阳晋,拜为上卿	《史记·廉颇蔺相如列传》
(蔺相如出使强秦不辱使命,完璧归赵)相如既归,赵王以为贤大夫,使不辱于诸侯,拜相如为上大夫	《史记·廉颇蔺相如列传》

- A. 是士卒晋升的主要渠道
- B. 加速贵族等级分封制解体
- C. 保障了赵国的吏治清明
- D. 有利于维护君主专制权威

6. 下图是汉代画像石“泗水捞鼎”。史载大禹铸九鼎,代表天下九州,成为国家权力的象征。夏以后,随着朝代兴亡,九鼎先后为商和周所得。战国时,东周灭亡,九鼎不知去向。有传言九鼎落于彭城(今徐州)泗水。秦始皇东巡琅琊时,动用大量人力寻找打捞,但未果。对上述史实评论正确的是 ()

- A. 秦打算通过九鼎为统一作舆论准备
- B. 秦始皇巡游天下造成了沉重的赋役
- C. 统治者重视政治传统的延续和继承
- D. 画像石确证了九鼎记载的真实可信



7. [2025·湖南长沙模拟] 项羽击败秦军,成为天下共主后,没有沿袭秦代的郡县制,而是分封天下诸侯。项羽分封诸侯的依据,是在秦末战争中所获取的战功大小及掌控军队的多寡。这反映了 ()

- A. 先秦旧贵族势力复辟
- B. 秦朝政治制度被全盘否定
- C. 新旧交替的时代特点
- D. 西周制度仍有较强生命力

8. [2025·广东深圳模拟] 两汉时期,追述历代帝王的画像石作品广泛流行,所选帝王多为伏羲、女娲、祝融、神农、黄帝、颛顼、帝喾、尧、舜、禹等神话人物和古圣先王。这些作品的流行 ()

- A. 有利于增强汉朝的正统意识
- B. 反映出汉代考证之风的盛行
- C. 体现出统治者对农业的重视
- D. 为儒学成为正统奠定了基础

9. 有学者指出:“东汉初期既然在洛阳立高庙,合祭西汉五帝,作为刘氏后裔,将世祖及以后历代皇帝神主纳于高庙中序昭穆、享祭祀,属于合乎情理的举措。但汉明帝为光武帝单独立世祖庙,随后诸帝又皆立神主于世祖庙,却似乎隐隐含有与西汉帝系截然有别的蕴意,此举被后世视为违礼之举而加以抨击。”这表明 ()

- A. 宗法观念已被摒弃
- B. 儒学影响政治伦理
- C. 皇权传承缺乏规范
- D. 祖先崇拜源远流长

10. [2025·广东惠州模拟] 上古时期,中华大地新石器文化星罗棋布,氏族部落林立,部族集团互不统属。但司马迁在《史记·五帝本纪》中将本属于不同部族的五帝描写成一系,黄帝为五帝之首,后四帝都是黄帝的后裔。司马迁此举 ()

- A. 还原了客观历史
- B. 蕴含了“大一统”的理念
- C. 受到礼乐制影响
- D. 记录了华夏族形成的历程

二、非选择题(共 20 分)

11. (10 分)[2025·广西桂林模拟] 阅读材料,回答下列问题。

材料 三星堆遗址发现于 1929 年,位于四川省境内,距今有 3000~5000 年历史,是古蜀文化的重要遗址,也是西南地区最重要的考古发现。以前人们都认为中国的古文明主要起源于黄河流域,三星堆遗址的发现,标志着长江流域和黄河流域一样,都是中华文明的重要发源地。

在三星堆遗址中,考古工作者发掘出了许多形态各异的青铜器,还有大量的青铜人像、人面像、兽面像等。这些青铜器和人物像风格独特,例如黄金权杖和黄金面具等,在我们已知的商代和以前的中华文明中从没有发现过,却常见于埃及和西亚的出土文物中,如《汉谟拉比法典》石碑,刻画了太阳神沙马什授予汉谟拉比权杖的形象。除此之外,三星堆遗址出土的青铜神树,也有人认为与两河流域发现的生命神树雕像有亲缘关系。正是因为这些出土文物形态如此奇特,并且与西亚、埃及等地似乎有着很多联系,围绕“三星堆文明起源之谜”,学术界产生了诸多争论,主要代表观点有以下三种:一是,三星堆文明是华夏文明的亚文明,是中原文明的重要分支;二是,三星堆文明来源于埃及和两河流域;三是,三星堆文明是受多元文明影响生成的文明。

2022 年 6 月,三星堆考古发掘最新成果揭秘,共出土文物近 13 000 件。在这次出土的文物里面,有些种类在中原地区也曾经出现过,例如,玉璧、玉璋、玉戈在河南、陕西、山东以及广大的华南地区都有发现,而神树、顶尊跪坐人像与大量龙形象器物则表明三星堆遗址的使

用者在自身认同、礼仪宗教以及对于天地自然的认识与国内其他地区人群相近,无疑确切表明三星堆遗址所属的古蜀文明是中华文明的重要一员。

——摘编自《揭秘三星堆“上新”背后的故事》

(1)根据材料并结合所学知识,概括三星堆文明的特点及其产生的影响。(4 分)

(2)根据材料并结合所学知识,指出学术界对“三星堆文明起源之谜”的争论说明了什么问题。(3 分)

(3)根据材料并结合所学知识,分析考古发掘在史学研究中的作用。(3 分)

12. (10 分)[2025·天津河北区模拟] 阅读材料,完成下列要求。

材料 秦汉“中国一统”,首次以单一式的“车同轨,书同文,行同伦”及郡县官僚制管辖编民,将黄河中下游与长江中下游农耕区整合为一体,为汉唐文明的辉煌及辐射周边提供了必要的政治秩序及演进基础。元明清“华夷一统”囊括中土和塞外,形成了华夷多元的复合共同体。先有自元朝肇始的制度、文化、族群复合式的“华夷混一”,继而是明成祖争夺主导权未果及朝野“华夷一统”说辞连篇累牍,最后是清统治者对“华夷”二字讳莫如深却有了较成熟的“华夷一统”之实。……复合式共同体的中国由“小”变“大”,多民族统一国家、中华文明结构及传统王朝序列等在新时空格局下皆得到了相应的完善升华。

——摘编自李治安《元明清“华夷一统”到“中华一统”的话语转换》
运用材料并结合所学内容,自拟一个题目并予以论述。(要求:论点明确,论述清晰,史论结合。)(10 分)

单元分层检测卷（二）

[考查范围:三国两晋南北朝的民族交融与隋唐统一多民族封建国家的发展(及相关选必)]

A 卷 巩固篇

(时间:30 分钟 分值:50 分)

一、选择题(共 36 分)

1. [2025·安徽合肥模拟] 三国魏后期,统治者鼓励无地或少地的农民通过开垦荒地获得一定数量的土地,并“以户口率其垦田之多少”作为官员政绩的考核标准。上述举措 ()
- A. 保障了均田制的实施
B. 促进了北方经济的恢复发展
C. 改变了赋役征发标准
D. 体现了无为而治的治国理念
2. [2025·江西南昌模拟] 中国人非常看重自己的“衣冠”,衣冠既可以用来代指士大夫,也可以用来代指文明礼教。唐代史学家刘知几曾经把西晋末年中原缙绅、士大夫等举家南迁称为“衣冠南渡”。“衣冠南渡”出现的主要原因是 ()
- A. 士人热衷吸取前朝的教训
B. 战乱影响人们生活环境
C. 儒学在南方的传播与发展
D. 统治者追求服饰中原化
3. [2025·贵州遵义模拟] 隋朝修建的大运河,大大加强了南北经济文化联系;唐朝时期,大运河成为“奉长安文化为中心、仰东南财赋以存立”的唐朝生命线。这反映了隋唐时期 ()
- A. 人工运河修建技术领先世界
B. 水路运输成为主要运输方式
C. 经济重心南移产生重大影响
D. 交通建设促进国家统一稳定
4. [2025·山西吕梁模拟] 贞观初,太宗对待臣说:“隋炀帝广造宫室,以肆行幸。……人力不堪,相聚为贼。逮至末年,尺土一人,非复己有。以此观之,广宫室,好行幸,竟有何益? 此皆朕耳所闻,目所见,深以自诫。”在此思想影响下,唐太宗 ()
- A. 取消一切的杂税和杂役
B. 践行清静安民的治国理念
C. 不断削弱诸侯王的势力
D. 革新选官方式以澄清吏治
5. [2025·广东惠州模拟] 据唐代《关市令》记载,市司官员每旬要对市场上的商品进行评估,按照质量好坏定为上、中、下三种价格,并制成文簿呈报州郡备案,五谷时价还要报送户部审核。唐政府此举意在 ()
- A. 维护民众利益
B. 加强中央集权
C. 规范市场秩序
D. 厉行抑商政策

6. 在今中亚地区出土了大量唐代钱币。这些钱币上一面铸有汉字,一面铸有突厥文字和当时西域其他少数民族的文字。这可用来说明唐代在西域 ()
- A. 统一了货币发行
B. 实施了有效管理
C. 放松了政治控制
D. 加强了文化渗透
7. 唐前期,地方长官的朝覲由州郡代表朝集使承担,安史之乱以后则由节度使承担。节度使的朝覲,唐肃宗至唐德宗时期表现为“不敢往,亦不敢叛”;黄巢起义后则表现为“称兵入朝,不由奏请”。这些变化表明唐代 ()
- A. 外重内轻局势扭转
B. 中央政权权威衰退
C. 对边疆的控制弱化
D. 地方治理日益混乱
8. [2025·湖南长沙模拟] 日本学者气贺泽保规在《绚烂的世界帝国:隋唐时代》一书中指出,唐代科举中,进士科最为热门。进士科中有专门的考查诗赋,由此,唐诗成为正式的考试科目,作诗不仅仅是一部分诗人们的事情,而且具有了现实的意义,成为统治阶层共同的教养。这表明科举制 ()
- A. 促进了阶层的流动
B. 提升了官员的文化素质
C. 提升了民众的教养
D. 提高了官员的行政能力
9. 唐开元时,玄宗批准中书省的奏议,凡国家大事,每个中书舍人都要提出书面意见即“商量状”,由中书令评定每个“商量状”的优劣,经门下省审议同意后,送皇帝裁定。这一机制 ()
- A. 使门下省取得了决策权
B. 有利于激发中枢机构效能
C. 反映了三省制度的废弛
D. 稳定了中书令的特殊地位
10. 贾思勰编撰《齐民要术》的标准有三:农业及食品加工存储技术属于“资生之业”,要“靡不毕书”;对尚未引进的国外作物仅存其名目;对“商贾之事”和“花草之流”绝不记录。这表明《齐民要术》的社会历史价值是 ()
- A. 革新传统农业技术
B. 倡导农业立国精神
C. 推动中外文化交流
D. 增益国家粮食安全
11. [2025·广西柳州一模] 在莫高窟的礼佛画中,晚唐之前主要是以佛为中心,人朝佛像礼拜;晚唐五代以后则变为先拜地方长官,后在其带领下向佛像礼拜。该变化说明 ()
- A. 纲常伦理观念逐渐淡化
B. 政治形势影响艺术创作
C. 政教合一稳定封建统治
D. 排佛运动影响佛教发展
12. 伴随着天竺佛学的传入,唐代出现了研究天竺历法的家族或学派:迦叶氏、瞿昙氏、拘摩罗。他们在华期间,传授天文历法知识,僧一行编撰的《大衍历》、李淳风修订的《麟德历》都曾受到“三家”的影响。这反映出当时 ()
- A. 中华文化对周边的辐射力
B. 佛教传播的文化环境较宽松
C. 佛教适应社会日趋中国化
D. 科技文化受到外来文化影响

二、非选择题(共 14 分)

13. (14 分)[2025·河南开封模拟] 阅读材料,完成下列要求。

材料一 据旧征税数,及人户土客,定等第钱数多少,为夏、秋两税。……其丁租庸调,并入两税。

——摘编自[宋]王溥《唐会要》

材料二 唐朝元和时江淮八道 49 州 144 万户,总税额应为 1 056.96 万贯。其中供京师与留州使的比率若以《吴地记》所载 56% 计,上供部分约为 592 万贯。大中年间税钱 859 万余贯,江淮八道的 592 万贯若保持不变,则占 69%,国家财政对江淮的仰赖一目了然。

——据[唐]陆广微《吴地记》等整理

材料三 国家定两税,本意在忧人……奈何岁月久,贪吏得因循。浚我以求宠,斂索无冬春……

——[唐]白居易《重赋》

(1)分别阐述每则材料对研究唐朝两税法价值。(6 分)

(2)综合上述材料,简述唐朝两税法的影响。(6 分)

(3)除上述史料之外,研究唐朝两税法还可补充哪些类型的史料? 请至少列出两种。(2 分)

B 卷 提升篇

(时间:45 分钟 分值:50 分)

一、选择题(共 30 分)

1. [2025·广西柳州一模] 对于晋以前的人们而言,长江的地位实不能与黄河等量齐观。如《风俗通义》云:“江者,贡也,所出珍物可贡献也。河者,播也,播为九流,出龙图也。”至东晋,当时的诗文则称长江“总百川之殊势,集朝宗乎沧浪”“播灵润于千里,越岱宗(泰山尊称)之触石”。这一变化反映出东晋时期 ()

- A. 北方战乱,学术凋敝 B. 经济重心南移完成
C. 士人重构王朝正统 D. 正统思想受到冲击

2. [2025·江苏泰州模拟] 魏晋南北朝时期,政府设有“谱局”“谱库”,由专门的谱官掌管各类家谱、族谱的编制情况,规定民间编纂的家谱必须到政府备案,与政府谱局存档簿状对照无误后,才能得到认可。这一做法 ()

- A. 完善了分封宗法制 B. 有助于维护士族特权
C. 限制了人口的流动 D. 扩大了政权统治基础

3. [2025·福建福州一模] 据学者统计,某历史词典收录的魏晋南北朝时期人物有 580 人,其中山东临沂有 345 人,占比高达 59.5%,如王导、王羲之、王献之、颜之推等。出现这一现象的重要因素是 ()

- A. 北方地区长期安定 B. 世家大族文化传承
C. 社会经济持续高涨 D. 选官重视唯才是举

4. 依据现有考古墓葬出土的资料可知,在隋代入华粟特男子的世俗服饰中,粟特胡服体系自始至终占据着主导地位,隋代本土服饰虽有出现,但所占比例不大。而在唐代入华粟特人的墓葬中发现其所穿服饰均是唐代本土服饰。这说明唐代 ()

- A. 入华粟特人中华文化认同加深 B. 民族交融推动服饰多样化
C. 大力实行兼收并蓄的文化政策 D. 中华文化的对外辐射增强

5. [2025·广东广州模拟] 吕思勉在《中国通史》中指出:“唐朝的武功从表面看,虽和汉朝相等,其声威所至,或且超过汉朝,但此乃世运进步使然,以经营域外的实力论,唐朝实非汉朝之比……玄宗时,府兵制度业已废坏,而吐蕃、突厥都强,契丹势亦渐盛。欲图控制、守御,都不得不加重边兵……”由此可见 ()

- A. 唐朝的实力不如汉朝
B. 唐朝的衰落源于府兵制度的废弛
C. 唐朝时边疆民族更强
D. 唐朝节度使的推行是现实的需要

6. 唐宋时期,为了鼓励他人合法耕种大量存在的私有逃田,政府制定了专门的《盗耕种法》和《逃田法》。这两部经济法规从保护公私土地产权的角度,以是否缴纳赋税作为判决是否盗耕逃田的关键依据。这体现了 ()

- A. 两税法在推行过程中的灵活 B. 政府重视对私有田产的保护
C. 国家财政利益处于优先地位 D. 抑制兼并与发展生产的并重

7. [2025·山西长治模拟] 唐代制举由天子下诏,不定期举行,旨在选拔“非常之才”。制举考试盛行举荐,“他荐”之外,更有“自举”。时人杨绾在《条奏贡举疏》中道:“投刺干谒,驱驰于要津;露才扬己,喧腾于当代。古之贤良方正,岂有如此者乎!”这反映了当时 ()

- A. 仍受前代选官制度的影响
B. 士人主动向官员自荐求仕
C. 制举考试选拔的人才不实
D. 士人谄媚于人,有失风骨

8. 永嘉南渡后,玄学清谈在江南风靡一时,而在北方几乎断绝。且南学重义解,儒经注疏多以老庄之言,与汉人说经相去甚远;北学则重名物训诂,与南学差异甚大。这反映了 ()

- A. 儒学地位深受道家冲击 B. 南北学说并存发展
C. 北方学术因南迁而凋敝 D. 南学继承汉代经学

9. [2025·山东济南模拟] 唐代中期后,一些学者冲破了汉代以来“疏不破注”的解经传统,大胆怀疑甚至否定汉唐学者对《春秋》所作的传注,开创了“舍传求经”的新局面。这一变化 ()

- A. 阻断了儒释道三教合流 B. 为儒学发展注入了活力
C. 冲击了儒学的正统地位 D. 促进了儒学思想的统一

10. [2025·湖南怀化三模] 下图是陕西西安何家村遗址中出土的钱币。据此可推断 ()



- A. 中华文明影响日本古代文化 B. 唐朝与日本经济往来频繁
C. 日本效仿唐代政治文化制度 D. 儒家大同思想的广泛影响

二、非选择题(共 20 分)

11. (12 分)阅读材料,完成下列要求。

材料一 南朝宋人裴松之在评析诸葛亮的抱负时说:“若使游步中华,骋其龙光,岂夫多士所能沈翳哉!”在此,“中华”是以北方中原地域为核心的国家内涵。裴松之生活于南北政权分裂的时期,其论述亦体现了东晋士人对“中华”一词的国家地域认识。“中华”一词在魏晋南北朝时期的典籍中开始出现并在此之后大量涌现,与这一时期的社会历史环境密不可分。从根本上说应是“胡人”大规模进入中原地域的一个结果。

——摘编自张宏超、苍铭《“中华”一词的概念史研究》

材料二 “中华”一词出现于西晋末年并非偶然,它是原中原地区的朝臣、士人为将中原地区的政治、文化与社会传统同胡族及其文化相区分而产生的一个自我称谓。然而,晋室南迁后,“北方世家大族未获南迁者,率与胡人合作”是当时极普遍的现象。北魏、北齐、北周,均有相当数量中华士人参与权力中枢,他们是为北方少数民族政权塑造“中华”身份并推动其一步步融入“中华”的关键力量。北魏、北周等少数民族

政权在主观上对“中华”不抵触、不排斥。从东晋南北朝近 400 年的分裂到南北重归于统一,“中华”含义发生了根本变化。尤其在入唐以后,“中华”一词广为流行,不但成为唐朝的别称,很大程度上也成为中国的名号。

——摘编自石硕《胡入中华:“中华”一词的产生及开放性特点——

东晋南北朝至隋唐胡汉融合与“中华”词义嬗变》

(1)根据材料一、二并结合所学知识,说明“中华”一词出现的背景。(4 分)

(2)根据材料一、二并结合所学知识,概述两晋南北朝至隋唐“中华”词义嬗变的过程及意义。(8 分)

12. (8 分)阅读材料,完成要求。

材料 《新唐书·地理志》记载:“唐兴,初未暇于四夷,自太宗平突厥,西北诸蕃及蛮夷稍稍内属,即其部落列置州县。其大者为都督府,以其首领为都督、刺史,皆得世袭。”

唐代封演《封氏闻见记》记载:“往年回鹘入朝,大驱名马,市茶而归。”

杜审言《送高郎中北使》记载:“北狄愿和亲,东京发使臣。马衔边地雪,衣染异方尘。”

卢照邻《上之回》记载:“回中道路险,萧关烽候多。五营屯北地,万乘出西河。单于拜玉玺,天子按雕戈。振旅汾川曲,秋风横大歌。”

——摘编自刘洁《从唐代边塞诗看唐代的民族政策

——唐代边塞诗系列研究之二》等

根据材料,任选角度,自拟论题,并结合中国古代史知识,加以论述。(要求:观点明确,论据充分,史论结合,表达清晰。)(8 分)



单元分层检测卷（三）

[考查范围:辽宋夏金多民族政权的并立与元朝的统一(及相关选必)]

A 卷 巩固篇

(时间:30 分钟 分值:50 分)

一、选择题(共 36 分)

1. [2025·广西柳州一模] 顾炎武遍游天下后指出,凡郡县为原来唐旧治者,“其城郭必皆宽广,街道必皆正直”,原衙门的旧基“必皆宏敞”;相反,凡“宋以下所置,时弥近者制弥陋”。这一历史现象的出现主要是由于宋朝 ()
- A. 经济发展水平下降 B. 边防压力日益增加
C. 推行崇文抑武政策 D. 地方财权收归中央
2. 宋朝为杜绝考官徇私舞弊,建立了“糊名”和“誊录”制度。同时朝廷明诏:“国家开贡举之门,广搜罗之路……如工商杂类人内有奇才异行、卓然不群者,亦许解送。”对此理解正确的是 ()
- A. 反映了商人地位的提高 B. 有利于中央集权的加强
C. 推动了社会阶层的流动 D. 解决了人才选拔的弊端
3. 北宋政府铸造的货币先由直属皇室的内藏库收拢,再拨出一部分作为国家的财政收入。北宋中期,王安石进行变法,司农寺成为同皇室内藏库一样的财政管理中心,主管朝廷钱物,朝廷财赋“虽天子不得而用”。这一变化 ()
- A. 造成了中枢机构的臃肿 B. 增加了国家的财政收入
C. 保障了政府的有序运行 D. 构成对专制皇权的威胁
4. [2025·辽宁沈阳模拟] 辽朝“以国制治契丹,以汉制待汉人”;金朝以“猛安谋克”屯驻中原,筑寨居于汉族村落之间;西夏《天盛律令》在参照唐、宋律书的同时,给予牧业经济以特殊地位。少数民族政权的这些做法 ()
- A. 巩固了大一统国家疆域范围 B. 全盘照搬了中原先进文明
C. 植根于民族发展水平的差异 D. 重在推广本民族生活方式
5. 北宋政府严格限制边塞贸易,但宋辽边境“甚有人户衷私兴贩”,宋夏边境“颇闻禁令不行”。一无战事,边民“肆意往来,所在无复禁止”。导致这一现象出现的主要原因是 ()
- A. 人口迁徙加速 B. 民族交流交往密切
C. 民族政权并立 D. 南北经济互利互补
6. 金朝建立后,渐有女真贵族不再亲自役使奴婢从事生产,而是出租土地,坐食租税。元朝时期,也有很多主人让“驱口”(元朝对奴婢的称谓)从事农耕,采取“岁责其租赋”的剥削方式。上述史实可以用于说明该时期 ()
- A. 贵族门阀政治废止 B. 阶层间固化逐渐松动
C. 民族矛盾走向缓和 D. 少数民族封建化加深
7. [2025·湖北黄冈二模] 下表为元代乡试、会试对策试题的关键词统计情况,据此可知元代 ()

	政治	经济	文化学术	社会
重点关注	36	10	11	13
一般关注	37	26	0	17
合计	73	36	11	30

- A. 社会统治基础进一步扩大 B. 儒家的正统地位受到挑战
C. 取士受到政治局势的影响 D. 科举的实用主义倾向突出
8. [2025·广东深圳模拟] 元顺帝时,全国有驿站 1500 多处,为维持驿站的运行,特设站户。每站约 200 户,全国约 30 万户。站户固定在驿站上,负责供应驿站上一切交通工具和使臣的饮食。该制度的实施 ()
- A. 适应了国家疆域的统治 B. 创新了边疆治理的模式
C. 解决了藩镇割据的弊端 D. 埋下了政治动乱的隐患
9. [2025·广东深圳模拟] 北宋时期,时人云“有钱莫买金,多买江东纸,江东纸白如春云”。四川的布头笺、冷金笺,歙州的凝霜、澄心,宣州的栗纸,浙江的藤纸,温州的蠲纸,都是有名的品种。这反映出 ()
- A. 士人社会审美情趣的变化 B. 手工业区域分工逐步形成
C. 市场需求助推品种多样化 D. 专业化市镇经济较快发展
10. [2025·湖北武汉模拟] 朱熹在《白鹿洞书院学规》中把“言忠信,行笃敬”作为“修身之要”,把“正其谊不谋其利,明其道不计其功”作为“处事之要”,把“己所不欲,勿施于人”作为“接物之要”。这一学规旨在 ()
- A. 重塑道德规范之礼 B. 确立社会主流价值观
C. 培养封建统治人才 D. 推动学校教育的变革
11. 宋代士绅在社会中扮演了关键角色。他们通过捐资助学、修造贡院、兴办书院、捐修校舍、津贴学生等方式,推动了江南地区的教育变革和发展。据此可知,宋代士绅的这一系列活动 ()
- A. 反映了政治权力的变动 B. 削弱了中央政府的权威
C. 体现了商人地位的提高 D. 起到了社会教化的作用
12. [2025·广东广州模拟] 宋代的出版商在刊印书籍时,通常要印上版权页——“宋人刻书,于书之首尾或序后、目录后,往往刻一墨图记及牌记”。这个“牌记”载有出版人、刻书人、出版日期、版权声明等信息。这 ()
- A. 促成了宋代繁荣的书业市场
B. 催生了猖獗的盗版现象
C. 说明宋代出现了保护版权的法令
D. 反映宋代产生了知识产权意识
- 二、非选择题(共 14 分)
13. (14 分)[2025·湖南益阳模拟] 阅读材料,完成下列要求。
- 材料一 统一度量衡是秦朝的重要措施,而《史记·秦始皇本纪》对此只有“一法度衡石丈尺”之语。秦始皇陵等处出土的秦权铭文载,公元前 221 年,秦始皇令丞相隗状、王绾“法度量则不壹(一致)歟疑者,皆明壹之”。湖北省云梦县睡虎地出土的秦简记载:“县及工室听官为正(校准)衡石……毋过岁壹”“衡石不正,十六两以上,赀(罚没)官啬夫一甲,不盈十六两到八两,赀一盾”。

——摘编自《睡虎地秦墓竹简》等

材料二 北宋司马光编纂《资治通鉴》时,以官修的正史、实录为基础,同时参考了各种史料。他另撰成《资治通鉴考异》(以下简称《考异》),说明取舍史料的理由。以下是《考异》的几个事例:

事例 1·关于隋末名将薛仁果的名字,《考异》提到《旧唐书》《新唐书》《柳宗元集》写作“仁果”。《太宗实录》写作“仁果”。而唐太宗陵墓前有石马六匹,其中一匹的铭文为“白蹄乌,平薛仁果时所乘”。《考异》以为白马铭文“最可据”。

事例 2·关于唐玄宗的生日,《考异》提到《玄宗实录》记载的是八月一日。但通过查询历法发现这一时间有误。玄宗时文人顾况有诗曰:“八月五夜佳气新,昭成太后生圣人(即皇帝)。”故而《考异》以为玄宗生日是八月五日。

事例 3·关于吐蕃赞普世系,唐代林恩撰写的杂史《补国史》记载,唐文宗时吐蕃彝泰赞普去世,其弟继位。此事《文宗实录》《旧唐书》都没有记载,《考异》参照《补国史》编入。

(1)根据材料一并结合所学知识,概括指出秦始皇统一度量衡的具体措施,指出历史研究中出土文物对已有文献资料的作用。(6 分)

(2)根据材料二,举例说明司马光编写《资治通鉴》参考了哪些类型史料。依据材料二中的 3 个事例,说明《资治通鉴》在哪些情况下会采用官修史书以外的史料。(8 分)



B 卷 提升篇

(时间:45 分钟 分值:50 分)

一、选择题(共 30 分)

1. [2025·河北邯郸模拟] 宋初的“虚三级”体制——路、州(府)、县三级中,路没有统一的行政机构和单一的行政长官,路一级由帅、漕、宪、仓四司共同构成,分掌军队、财政、刑狱、经济。其次,在州(府)之上,不存在单一的行政区划,比如这个州(府)的帅司、漕司、宪司是属于某一路的,而它的仓司属于另一个路。上述措施 ()

- A. 有利于国家政局的稳定
- B. 旨在解决宰相专权问题
- C. 铲除了分裂割据的根源
- D. 造成了管理的复杂混乱

2. [2025·湖南长沙模拟] 如图为北宋一条粮食运输路线示意图。据此可推知,北宋 ()

- A. 政治中心与经济重心分离
- B. 朝廷赋税主要来自江南地区
- C. 西北边防面临着严峻压力
- D. 区域间的长途贩运较为兴盛

3. [2025·江苏苏州模拟] 熙宁六年(1073 年),宋政府颁布免行法,规定开封城内各行按获利多寡向政府缴纳免行役钱,免除其对官府的物质供应,宫廷及官衙所需物资由易司估定物价高低,按价购买。这项措施 ()

- A. 稳定了首都物价水平
- B. 促进了商品经济发展
- C. 加强了国家商业管控
- D. 增加了政府财政收入

4. [2025·江苏苏州模拟] 宋代诉讼判词《名公书判清明集》有一案例:马圭因不孝被其母起诉,法官对马圭处以刑罚时,马母又忆起丈夫遗嘱中思儿之情而悲痛流泪,于是法官决定免除马圭的不孝罪责,责令其邻里和亲戚对他进行劝导。该案例说明宋代 ()

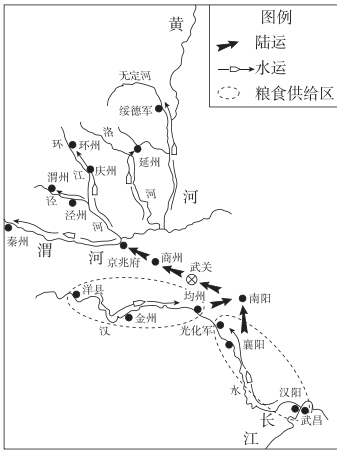
- A. 司法诉讼程序缺少法定规制
- B. 司法实践深受儒家思想影响
- C. 亲族力量更加容易调解纠纷
- D. 社会治理重视教化甚于法律

5. 在西夏,骆驼的重要性可以与马并列,甚至被纳入国家治理体系中,广泛用于战争、运输和耕地。西夏群牧司明确规定“旧驯之公骆驼年年当分离,当托付行宫司,人杂分用中”。西夏这些做法缘于 ()

- A. 国家制度
- B. 地理环境
- C. 经济形式
- D. 民族信仰

6. [2025·福建泉州一模] 元朝廷祐年间(1314—1320 年)的乡试、会试考查了冗官的议题,考生在科考后继续对此议题进行讨论,引起社会广泛关注;至正年间(1341—1368 年),朝廷颁布了裁减冗官和闲散机构的政令。这说明元朝意在 ()

- A. 加强君主专制
- B. 缓解统治危机
- C. 平息社会舆论
- D. 防止政治腐败



7. 元末,政府修撰辽金宋三朝的历史。对于帝纪部分的书写,元顺帝认为三朝史书的书写方法要参考《史记》《汉书》《新唐书》,对于三朝“称号等事”的描述,要参考记录南北朝历史的史书《南史》《北史》。上述写史办法 ()

- A. 彰显了蒙古贵族的特权地位
- B. 促进了中华历史文化认同
- C. 否定了辽金宋三朝的正统性
- D. 开创了新的史书编撰体例

8. 漆侠在《中国经济通史》中认为宋朝商品流通有两种运动形式:一种是农副产品的“求心”运动,即农副产品向城市集中;另一种是手工业产品的“辐射”运动,即手工业产品在某一产地大量生产后,由商人运往各地经销。据此可知当时 ()

- A. 农副产品不断向城市集中
- B. 农村与城市联系日益紧密
- C. 手工业产品开始行销各地
- D. 自然经济开始走向解体

9. 庙会是指在寺庙或道观内外举办的定期集市,两宋时全国寺院、道观林立,庙会繁多,比较有名的庙会市有相国寺庙市、东岳庙市等。史载,相国寺庙市“凡商旅交易,皆萃其中,四方趋京师以货物求售、转售他物者,必由于此”。庙市的出现 ()

- A. 进一步突破商业的时间、空间限制
- B. 扩大了商业的范围和广度
- C. 为商业市镇发展奠定基础
- D. 侧面反映宗教文化的繁荣

10. [2025·江西南昌模拟] 苏轼自觉将禅学思想渗透进自己的文学观念和文学创作之中。黄庭坚不仅作诗“多用释氏语”,而且善于将禅家的“机锋”手法加入孟子的句法之中,形成独特的“山谷体”。这说明宋代文学 ()

- A. 深受儒家传统观念的影响
- B. 在文化碰撞中得到发展
- C. 迎合市民阶层的审美需要
- D. 加速了佛教中国化进程

二、非选择题(共 20 分)

11. (10 分)阅读材料,完成下列要求。

材料一 宋朝积贫积弱论的定性,首次出现于民国钱穆的《国史大纲》一书。《国史大纲》分别以“宋代对外之积弱不振”与“宋室内部之积贫难疗”为章节标题。从纵向的时间角度而言,宋朝的贫弱是历史积弊,从横向的空间角度而言,宋朝的贫弱是社会危机。从此,积贫积弱作为宋朝的标签而风靡一时。至今,宋朝积贫积弱论尚有许多信众。

——摘编自朱永清《积贫积弱:清季以降宋朝贫弱形象的演变》

材料二 尽管宋代财政有军费和制度弊病导致的绝对困窘,如南宋初期和后期的情况,但很多时候还是财政管理制度所导致的负责“经费”的三司和户部的困窘,而非全国财政总量的不足。

——摘编自黄纯艳《宋代财政史》

在与辽夏金元的战争历程中,宋朝尽管多为被动防御,可是亦有主动进攻。面对防御战,宋军是胜多败少者;面对进攻战,宋军是败多胜少者。……宋朝只是国家能力弱,但综合国力并不弱。

——摘编自李华瑞《宋朝“积弱说”再认识》

材料三 宋朝“政治体制是中国古代最为民主的”“经济发展状况是历史上最好的”“科学技术成就是最为辉煌的”“思想是最活跃的”“教育是很成功的”“科举制度是最先进的”。

——摘编自李裕民《破除偏见,还宋代历史以本来面目》

(1) 如何理解“从纵向的时间角度而言,宋朝的贫弱是历史积弊,从横向的空间角度而言,宋朝的贫弱是社会危机”? (4 分)

(2) 指出材料二与材料一观点的不同之处,并结合所学知识分析其理由。(4 分)

(3) 综合以上材料,谈谈你对宋史研究的看法。(2 分)

12. (10 分)[2025·山东菏泽模拟] 阅读材料,回答问题。

材料一 唐朝末年,北方汉人纷纷避乱,北出长城,带去了中原先进的生产技术和生活方式。耶律阿保机在建立契丹政权之后,就使用了从燕蓟地区俘虏去的许多汉族士人,如康默记、韩延徽、韩知古等人,仿照汉制为政权制定一些典章制度。西夏元昊仿效北宋政府的组织,建立了一整套官制、兵制。

——摘编自翦伯赞主编《中国史纲要》等

材料二 元代多元文化体系内的交流影响,并不局限为先进文化影响落后文化的单向变动,而是蒙、汉、色目不同文化之间的相互“涵化”。这些显然有利于蒙古、汉地……吐蕃各自文化在多元刺激竞争中不断吸收外部有益营养而良性发展,最终成长为 19 世纪末中华民族和文化共同体的五大组成部分之一。

——摘编自李治安《元史十八讲》

根据材料并结合所学古代史知识,拟定一个论题并进行阐释。(要求:观点明确,史论结合,逻辑严谨。)(10 分)

单元分层检测卷（四）

[考查范围：明清中国版图的奠定与面临的挑战（及相关选必）]

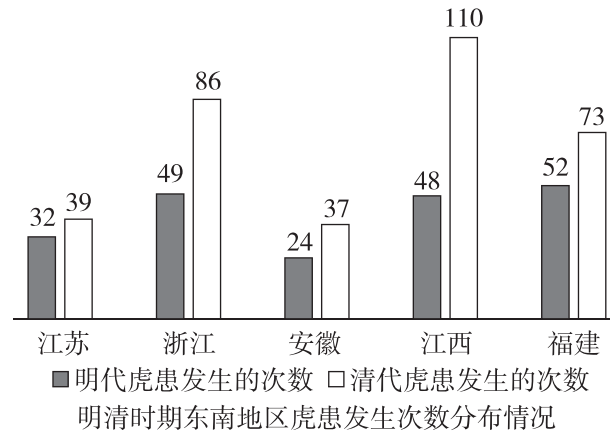
A 卷 巩固篇

（时间：30 分钟 分值：50 分）

一、选择题（共 36 分）

1. [2025·四川绵阳模拟] 明朝开国皇帝朱元璋立下《皇明祖训》，要求后世子孙必须遵循。比如要求不能再立宰相，明朝后来确实未恢复宰相制度；同时，朱元璋明确要求不允许内臣（宦官）读书识字，但后来明朝却设立了专门的太监学校教宦官读书写字。这些现象实质上体现了（ ）
- A. 明朝政治嬗变 B. 制度的随意性
C. 君主专制强化 D. 明朝宦官专权
2. [2025·湖南长沙模拟] “揭帖”原为明仁宗即位后特许近臣密陈朝政得失的公文，后演变为内阁专享的密奏文书，故称“密揭”。明代中后期，“密揭”成为内阁与皇帝沟通的主要方式，直接影响最高决策的形成。“密揭”制度反映出明朝（ ）
- A. 中枢决策发生异变 B. 皇帝权力日趋衰弱
C. 内阁权势逐渐膨胀 D. 内阁掌握了决策权
3. 1936 年，在云南玉溪郑和家族后代郑绍明家里发现的《郑和家谱》记载：“和，才负经纬（纬），文通孔孟，特选于（皇廷）……于诸番国并海外公干教化。诸番王等无不祇顺（恭敬）……又乃称和公之德而扬和公之行，可谓使于四方，不辱君命者矣。……所至诸国名：占城国、爪哇国、暹罗国……”这表明（ ）
- A. 朝贡体制旨在防御列强
B. 郑和下西洋以宣扬明朝国威为目的
C. 统治者已具备海权意识
D. 郑和下西洋有利于形成华夏认同观
4. [2025·山西大同模拟] 1382 年，朱元璋平定云南后，改云南行省为云南等处承宣布政使司，领诸府州县司；置都指挥使司，领诸卫所；置提刑按察使司，分巡安普、临元、金沧、洱海四道，并察诸府州县司卫所。这些做法（ ）
- A. 标志着行省制遭到完全废除
B. 推进边疆政治与内地一体化进程
C. 确保了边疆地区的长期稳定
D. 推动各民族的社会风俗渐趋相同
5. [2025·湖南长沙模拟] 明英宗时期，云南鹤庆土司高伦兄弟屡逞凶恶，屠戮士庶，与母杨氏、叔叔高宣互相贼害，后来高伦兄弟伏诛，朝廷趁机在鹤庆府改设流官。这反映出当时（ ）
- A. 土司制度亟须变革 B. 中央加强集权的策略
C. 民众拥护改土归流 D. 云南被纳入明朝版图
6. 清朝康熙年间形成了奏折制度，但拥有密奏权的官员仅有百余名。雍正继位后，不仅扩大了拥有密奏权的官员人数，还特许一些低微官吏行使密奏权。这一变化反映了（ ）

- A. 地方官员积极性的提高 B. 参与朝廷决策官员范围扩大
C. 政府部门行政效率降低 D. 皇帝对官僚队伍控制的加强
7. [2025·贵州贵阳模拟] 康雍两朝，贵州疆域经历了几次大的变革，其中至关重要的一次是“千里苗疆”的“开辟”，几达贵州疆土的一半。清朝在新辟苗疆建立“新疆六厅”，设厅置县，安屯设堡，建立新的统治秩序。这些举措（ ）
- A. 奠定了现代中国的版图 B. 强化了对贵州地区的控制
C. 消除了土司制度的影响 D. 推动了贵州省级区划建立
8. 下图为某学者统计的明清时期东南地区各省发生虎患次数（单位：次）的情况。据此可知，明清时期该地区（ ）



- A. 吏治腐败造成的虎患问题频发
B. 逐步成为全国的经济文化中心
C. 人口增长与生态环境问题凸显
D. 百姓深受社会治安问题的困扰
9. 明初以铜钱、纸钞为法定货币，白银在禁止流通之列；张居正推行一条鞭法时，规定赋税折银征收。清代一直铸造铜钱，大额交易通用白银，政府财政也以白银为计算单位。这一变化（ ）
- A. 推动商品经济发展 B. 导致重农政策被废止
C. 引起赋税制度变革 D. 形成闭关自守局面
10. [2025·山西太原模拟] 据明代史籍《云间据目抄》记载，万历年间松江府城西有暑袜店百余家，“合郡男妇皆以做袜为生，从店中给筹取值”。据此可知当时（ ）
- A. 社会分工逐渐细化 B. 新的生产经营方式出现
C. 封建经济开始衰落 D. 农产品商品化程度提高
11. [2025·福建泉州一模] 明清时期，闽粤客商每年都要在江南地区大量购丝，史载“闽省客商赴浙江湖州一带买丝，用银三四十万至四五十万两不等。至于广商，买丝银两动至百万，少亦不下八九十万两。此外，苏杭二处走广商人贩入广省尚不知凡几”。这表明（ ）
- A. 江南地区生产关系发生变动 B. 商品生产呈现区域分工格局
C. 闽粤地区的手工业发展较快 D. 商品经济繁荣推动商帮兴起
12. [2025·山西太原模拟] 明清之际，国内的文化知识界出现了李贽等进步的思想家，他们提倡人的个性，肯定人们的物质欲望，强调独立思考的精神。产生这一现象的主要原因是（ ）
- A. 西学东渐的影响 B. 农耕经济的高度发展
C. 商品经济的发展 D. “民贵君轻”的传统

二、非选择题（共 14 分）

13. （14 分）[2025·河北沧州模拟] 阅读材料，完成下列要求。

材料一 1690 年，康熙帝发布上谕：“从古行兵，未有不预操练者……今春秋二季，令八旗官兵集于宽敞平原之地，排列阵势，鸣锣进退，以熟操练。”此前，噶尔丹强盛，沙俄勾结噶尔丹袭扰北部边疆。康熙帝在打败噶尔丹之后，为不动兵刃降服蒙古各部，决定设置一个展示八旗官兵实力的平台。经过两次勘察之后，康熙帝将这一地址选在处于三省交界地带的承德木兰一带，遂决定设置木兰围场。围场自康熙皇帝设置以后就有規制，常年驻兵并派员管理，“木兰围场栅界驻八旗，一营统五十卡伦，八旗按方位部署，分守其境”。

——摘编自关青云《清代木兰围场设置原因考》

材料二 1689 年，康熙皇帝北巡塞外，在木兰围场北部的库尔奇勒河行宫正式批准中俄《尼布楚条约》。乾隆皇帝在木兰围场伊绵峪接见了土尔扈特部首领渥巴锡一行。木兰秋狝活动还带动了清朝皇室在这一区域的满蒙联姻和各民族生活上的互动，康雍乾时期，满蒙联姻 273 次，嫁与蒙古人的皇家女 246 人，皇室娶蒙古女 27 人。木兰秋狝活动汇聚了大量满、蒙、汉等民族随行人员。乾隆之时，从猎蒙古王公多至百余旗。

——摘编自张红《清代木兰围场社会变迁与各民族交往交流交融》

(1) 根据材料一并结合所学知识，概括木兰围场设置的背景。（6 分）

(2) 根据材料一、二并结合所学知识，归纳清朝前中期边疆治理的特点。（8 分）



B 卷 提升篇

(时间:45 分钟 分值:50 分)

一、选择题(共 30 分)

1. [2025·山东青岛模拟] 明初,朱元璋指出:“礼者,所以美教化而定民志。成周设大司徒,以五礼防万民之伪而教之中。夫制中莫如礼,修政莫如礼,齐家莫如礼。故有礼则治,无礼则乱。居家有礼,则长幼叙而宗族和;朝廷有礼,则尊卑定而等威辨。”其目的是 ()
- A. 重构国家统治秩序 B. 确立儒学统治地位
- C. 维护宗族内部和谐 D. 构建礼乐宗法制度
2. 明代大学士张璁初入阁,便在奏疏中明确说道:“今之内阁,宰相职也。”以后的内阁首辅张四维却说:“(阁臣)无所不当闻……欲臣不预闻吏、兵二部事,非制也。”这说明内阁 ()
- A. 负责草拟诏书 B. 职责较不明确
- C. 实为辅政机构 D. 权力日渐扩张
3. 1358 年,朱元璋命提刑按察使司佥事分巡郡县录囚,凡笞罪者释之,杖者减半,重囚杖七十,有赃者免征。1368 年朱元璋登基后,先后颁布《大诰》《大诰武臣》和量刑较重的《大明律》,并设置锦衣卫和诏狱,频施廷杖。这反映了 ()
- A. 阶级矛盾激化引发明朝灭亡 B. 形势变化影响统治策略
- C. 法律建设旨在防止吏治腐败 D. 社会治理水平显著提高
4. 1567 年,明朝隆庆皇帝宣布解除“海禁”,允许民间商人出海贸易,史称“隆庆开关”。“隆庆开关”后,出海人数不断增加,仅福建一省,久居吕宋岛(今菲律宾)经商者就有数万人。材料反映出明朝 ()
- A. 自然经济解体速度加快 B. 资本主义经济开始萌芽
- C. 朝贡贸易推动外交发展 D. 民间海外贸易规模较大
5. [2025·贵州遵义模拟] 明万历二十七年(1599 年),播州(今贵州遵义)土司发动叛乱。明朝调集数省官兵前往征剿,石砭(今重庆石柱)土司奉命率数千“白杆兵”从征,这支主要由土司亲随组建的“白杆兵”在女将秦良玉的指挥下,接连破敌,“为南川路战功第一”。材料可用于说明晚明时期 ()
- A. 征兵制在基层的全面恢复 B. 西南地方行政系统的崩溃
- C. 土司制的地域性和独立性 D. 女性职业选择范围的扩大
6. [2025·甘肃白银模拟] 清雍正帝设军机处后,朝廷文武官员上至大学士、各部尚书,各省总督、巡抚,下至驻防将军、都统等补放任命,均由军机大臣开列应补人员名单,呈皇帝择用。军机大臣也可以“钦差”的身份,检查或处理地方政务,稽查各省、各部院之汇奏事件。这表明 ()
- A. 君主专制得到强化 B. 中枢决策权力发生异变
- C. 军机处独揽行政权 D. 国家权力中心逐渐下移
7. [2025·山西太原模拟] 1689 年康熙帝南巡时,江南士子进献《耕织图》。康熙感慨“念生民之本,以衣食为天……有天下国家者,洵不可不留连三复于其际也”。故在此图基础上,康熙帝命人另绘耕图、织图多幅。这表明清朝统治者 ()

- A. 厉行儒家的民本思想 B. 推行“重本抑末”政策
- C. 坚持以农为本的观念 D. 主旨在缓和社会矛盾
8. [2025·广东深圳模拟] 有学者指出,清代前期,朝贡制度已经不再是一种简单的满足“天朝上国”心态的虚幻外交制度,清政府已经开始注意其防御性的功能。与此同时,随着清代贸易通道的正常化,朝贡体系与贸易体系之间混淆的状态有所改变,朝贡制度更多体现出其政治功能的一面。这说明清朝前期的朝贡制度 ()
- A. 具有务实性 B. 追求多元化
- C. 注重防御性 D. 突出贸易化
9. [2025·广西柳州一模] 明中后期,景德镇的瓷器、湖州的丝绵、松江的棉布等行销日本,以至于有“大抵日本所须,皆产自中国”之说;占有吕宋(今菲律宾)的葡萄牙人、西班牙人,“好中国绫缎杂缯”,湖州丝在原产地一斤值白银一两,运至其地则“得价两倍”。上述现象表明 ()
- A. 中国传统手工业具有优势 B. 小农经济始终占统治地位
- C. 海上丝绸之路在不断拓展 D. 统治者改变传统抑商政策
10. 黄宗羲曾评述说:“古者天下之人爱戴其君,比之如父,拟之如天,诚不为过也。今也天下之人怨恶其君,视之如寇仇,名之为独夫,固其所也。”其意在 ()
- A. 宣扬君权神授观念 B. 强调回归“小国寡民”
- C. 抨击封建君主专制 D. 坚持社会契约至上
- 二、非选择题(共 20 分)
11. (10 分)阅读材料,回答问题。
- 材料一 宋代海洋政策出现了全新的变化。北宋政府禁止在海上与辽、金之间的人员往来和物资流动,设立专门针对辽的海防机制。宋代将外商贸易纳入系统的市舶管理体制之下,实行抽解和博买,并允许和鼓励本国民众从事海洋经济活动。宋代海洋政策表现出极强的利益取向,中原王朝第一次以财政的眼光看待海上贸易。沿海地区商业出现兴盛的局面,与海上贸易相关的手工业和商品性农业大兴。宋代海船逐渐采用水密隔舱等技术,具有很强的稳定性和抗沉性。海陆联结之地的居民被编为特殊的户籍——船户与渔户。
- 摘编自黄纯艳《宋代海洋政策新变及其国内效应》
- 材料二 下表为明清时期中央政府的海洋政策演变。
- | 时间 | 政府政令 |
|--------|------------------------------|
| 洪武二十三年 | “沿海军民官司纵令私相交易者,悉治以罪” |
| 永乐三年 | 在福建、浙江、广东分别设立“来远”“安远”“怀远”三驿 |
| 永乐五年 | “不许军民人等私通外境,私自下海贩鬻番货,违者依律治罪” |
| 顺治十八年 | “沿海居民分别内迁三十至五十里,设界防守,严禁逾越” |
| 乾隆二十二年 | 关闭江、浙、闽三海关,由粤海关行商垄断对外贸易事务 |
- 摘编自胡林梅、文绪武《中国古代海洋意识的历史演进及其启示》

- (1)根据材料一,概括宋代海洋政策的新变化。结合所学知识,分析其“国内效应”。(6 分)
- (2)根据材料二,剖析明清海洋政策的历史趋向。根据上述两则材料,梳理宋代以来海洋政策的当代启示。(4 分)
12. (10 分)阅读材料,完成下列要求。
- 材料
- | 材料 | 内容 | 出处 |
|----|--|-----------------|
| 一 | “广州凡矾围堤岸,皆种荔枝、龙眼,或有弃稻田以种者” | 清代笔记:屈大均《广东新语》 |
| 二 | “(泉州)为稻利薄,蔗利厚,往往有改稻田种蔗者” | 明代笔记:陈懋仁《泉南杂志》 |
| 三 | “(松江)肆中收布之所,曰花布纱庄。布成持以易花(棉花),或即以棉纱易,辗转相乘,储其余为一家御寒具,兼佐米盐” | 清代地方志:周凤池《金泽小志》 |
| 四 | “(盛泽镇)居民以绸绦为业” | 清代笔记:沈云《盛湖杂录》 |
| 五 | “(石门镇)辄募旁邑民为佣”“一夕作,佣值二铢而赢” | 清代地方志:张霖《石门县志》 |
- 有学者认为,明清时期中国出现了“早期市场经济”,请运用上表材料对此观点予以说明,并指出运用这些材料研究这一问题有何局限。(10 分)